

На рисунках (1–5) наведено інформацію про п'ять паралелограмів. До кожного початку речення (1–3) доберіть його закінчення (А–Д) так, щоб утворилося правильне твердження.

Рис. 1

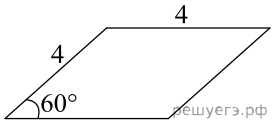


Рис. 2

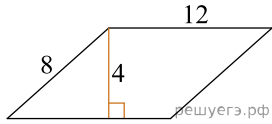


Рис. 3

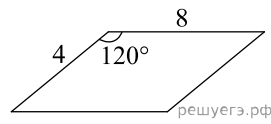


Рис. 4

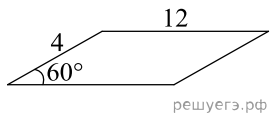
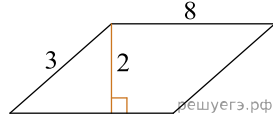


Рис. 5



Початок речення

1. Паралелограм, діагоналі якого перетинаються A під прямим кутом, зображено на
2. Паралелограм, менший кут якого дорівнює 30° , зображено на
3. Паралелограм, площа якого дорівнює 16, зображено на

Закінчення речення

- А** рис. 1.
- Б** рис. 2.
- В** рис. 3.
- Г** рис. 4.
- Д** рис. 5.

А
Б
В
Г
Д

- 1
- 2
- 3