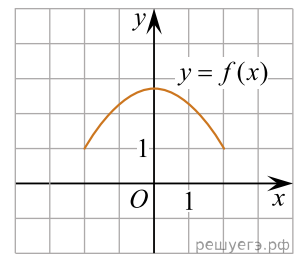
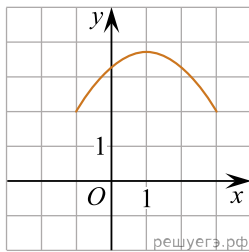


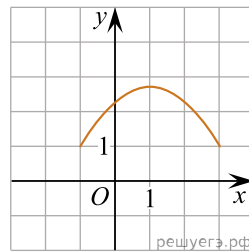
На рисунку зображено графік функції  $y = f(x)$ , визначеної на проміжку  $[-2; 2]$ . Укажіть рисунок, на якому зображено графік функції  $y = f(x+1)$ .



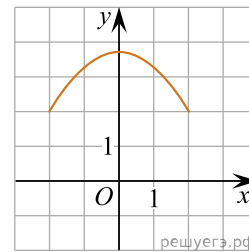
А)



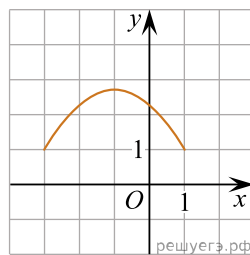
Б)



В)



Г)



Д)

