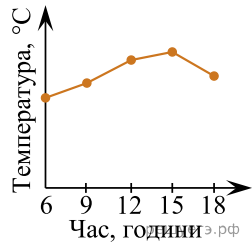


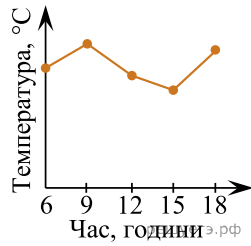
У таблиці наведено дані про температуру повітря в різний час того самого дня.

Час, години	6	9	12	15	18
Температура, °C	12	17	14	18	15

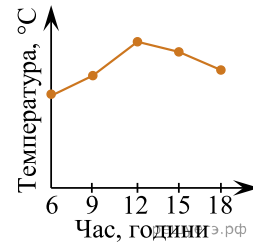
На графіках немає шкали (градаций) температури повітря. На яком у графіку правильно відображено дані, наведені в таблиці?



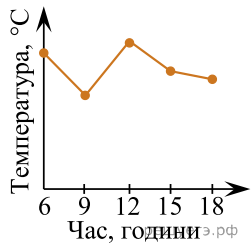
А)



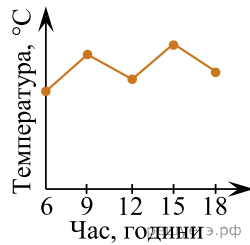
Б)



В)



Г)



Д)

А) А

Б) Б

В) В

Г) Г

Д) Д