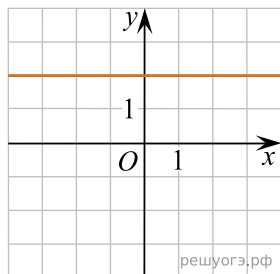


Доберіть до функції (1–3) ескіз її графіка (А–Д).

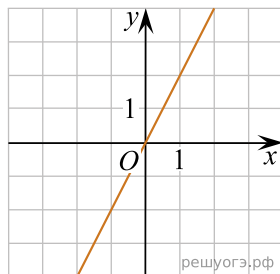
Функція

1. $y = 2x$
2. $y = 2$
3. $y = x + 2$

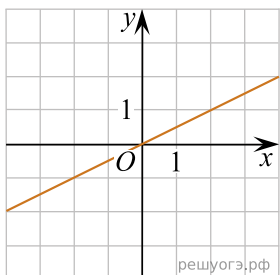
Ескіз графіка функції



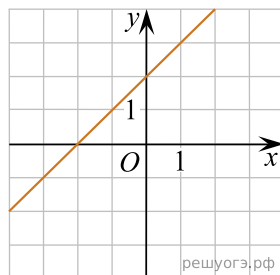
А



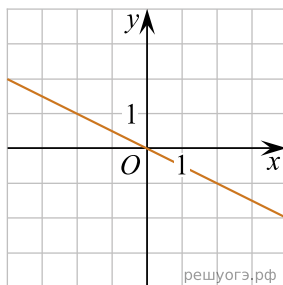
Б



В



Г



Д

- А
Б
В
Г
Д

- 1
○ ○ ○ ○ ○
2
○ ○ ○ ○ ○
3
○ ○ ○ ○ ○