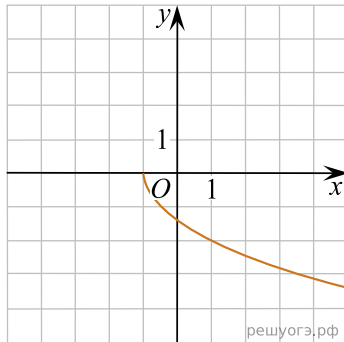


Доберіть до функції (1–3) ескіз її графіка (А–Д).

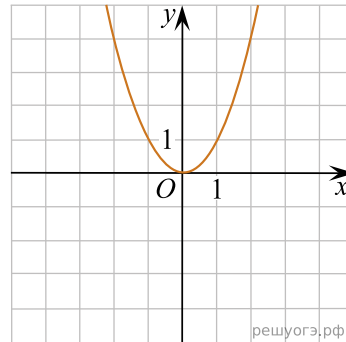
Функція

1. $y = x + 3$
2. $y = -\sqrt{2x + 2}$
3. $y = 4 - x^2$

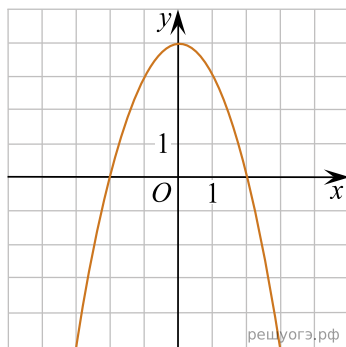
Ескіз графіка функції



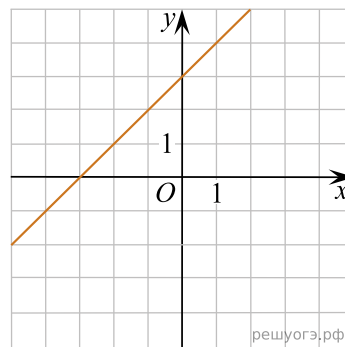
А



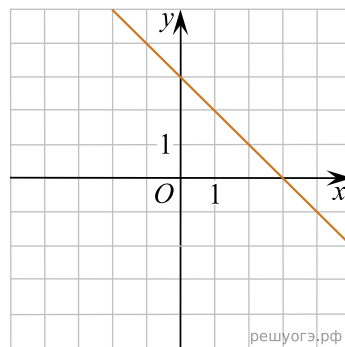
Б



В



Г



Д

- А
Б
В
Г
Д

- 1
○ ○ ○ ○ ○
2
○ ○ ○ ○ ○
3
○ ○ ○ ○ ○