

При выполнении заданий с кратким ответом отметьте верный ответ или впишите в поле для ответа цифру, которая соответствует номеру правильного ответа, или число, слово, последовательность букв (слов) или цифр. Ответ следует записывать без пробелов и каких-либо дополнительных символов. Дробную часть отделяйте от целой десятичной запятой. Единицы измерений писать не нужно.

Если вариант задан учителем, вы можете вписать или загрузить в систему ответы к заданиям с развернутым ответом. Учитель увидит результаты выполнения заданий с кратким ответом и сможет оценить загруженные ответы к заданиям с развернутым ответом. Выставленные учителем баллы отобразятся в вашей статистике.

1. На рахунок у банку, дохід за яким становить 15% річних, внесли 24 тис. грн. Скільки тисяч гривень буде на цьому рахунку через рік, якщо жодних операцій з рахунком не проводитиметься?

- А) 27,5 Б) 26,6 В) 27,6 Г) 28,1 Д) 27

2. Мотоцикліст першого дня подорожі проїхав 320 км, другого дня — 360 км, третього дня — 400 км, а четвертий — 208 км. Яку відстань у середньому за день проїжджав автомобіліст?

- А) 322 км Б) 321 км В) 324 км Г) 330 км Д) 315 км

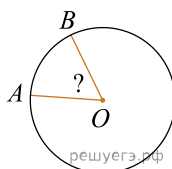
3. Висотою прямого конуса є відрізок, що з'єднує

- А) вершину конуса з точками кола основи
 Б) дві точки кола основи
 В) вершину конуса з будь-якою точкою, що належить основі конуса
 Г) вершину конуса з центром основи
 Д) центр кола основи з будь-якою точкою на кола основи

4. Какое из данных ниже чисел является значением выражения $\frac{4^{-5} \cdot 4^{-4}}{4^{-8}}$?

- А) 4 Б) 2 В) $\frac{1}{4}$ Г) -4 Д) $-\frac{1}{4}$

5. На колі з центром O вибрано точки A та B (див. рисунок). Визначте градусну міру кута AOB , якщо довжина дуги $\overset{\frown}{AB}$ становить $\frac{1}{6}$ довжини цього кола.

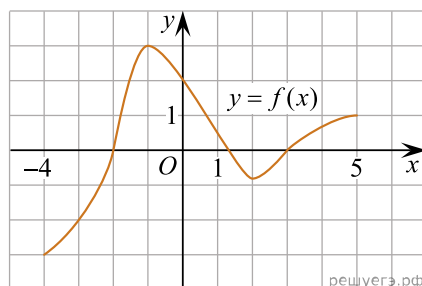


- А) 30° Б) 45° В) 60° Г) 75° Д) 90°

6. Знайдіть корінь рівняння $8(6+x) + 2x = 8$.

- А) -4 Б) -2 В) -1 Г) -3 Д) -5

7. На рисунку зображено графік функції $y = f(x)$, визначеної на проміжку $[-4; 5]$. Точка $(x_0; -2)$ належить графіку цієї функції. Визначте абсцису x_0 цієї точки.



- А) 3 Б) 2 В) 0 Г) -2 Д) -3

8. Спростіть вираз $\frac{(a-b)^2 - b^2}{a}$.

- А) a Б) $a - 2b$ В) $a - b$ Г) $a + b$ Д) $a - 2b^2$

9. Доберіть закінчення речення так, щоб утворилося правильне твердження:
«Циліндр утворений оберганням...

- А) квадрата навколо його сторони».
Б) прямокутника навколо його діагоналі».
В) прямокутного трикутника навколо його гіпотенузи».
Г) прямокутного трикутника навколо його катета».
Д) квадрата навколо його діагоналі».

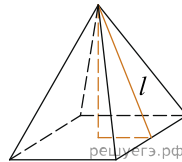
10. Спростіть вираз $(a^6)^4 : a^2$, $a \neq 0$.

- А) a^5 Б) a^8 В) a^{10} Г) a^{12} Д) a^{22}

11. Розв'яжіть систему нерівностей: $\begin{cases} 4x + 2 \geq 5x + 3, \\ 2 - 3x < 7 - 2x. \end{cases}$

- А) $[-5; -1]$ Б) $(-5; -1]$ В) $(-\infty; -5)$ Г) $[-1; +\infty)$
Д) $(-5; 1]$

12. Знайдіть площу бічної поверхні правильної чотирикутної піраміди, сторона основи якої дорівнює 6 і висота дорівнює 4.

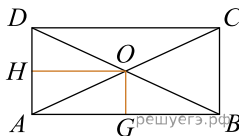


- А) 15 Б) 120 В) 60 Г) 30 Д) 50

13. Знайдіть корінь рівняння: $\frac{1}{9x-7} = \frac{1}{2}$.

- А) $[2; 3)$ Б) $(0; 1)$ В) $(1; 2]$ Г) $[1; 2)$ Д) $(-1; 1)$

14. У прямокутнику відстань від точки перетину діагоналей до меншої сторони на 1 більша, ніж відстань від неї до більшої сторони. Периметр прямокутника дорівнює 28. Знайдіть меншу сторону прямокутника.



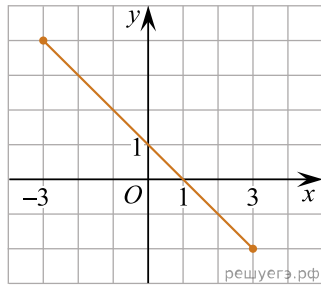
- А) 12 Б) 4 В) 3 Г) 6 Д) 16

15. Функція $F(x) = 10x^5 - 4$ є первісною функції $f(x)$. Укажіть функцію $G(x)$, яка також є первісною функції $f(x)$.

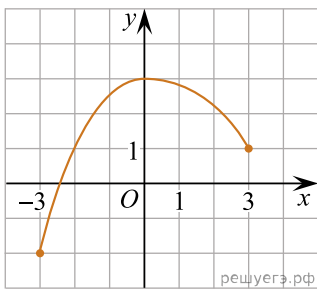
- А) $G(x) = 10x^5 + 7$ Б) $G(x) = 2x^6 - 4x$ В) $G(x) = 50x^6$
Г) $G(x) = 50x^4$ Д) $G(x) = x^5 - 4$

16. На рисунках (1–3) зображено графіки функцій, кожна з яких визначена на проміжку $[-3; 3]$. Установіть відповідність між графіком (1–3) функції та властивістю (А–Д) цієї функції.

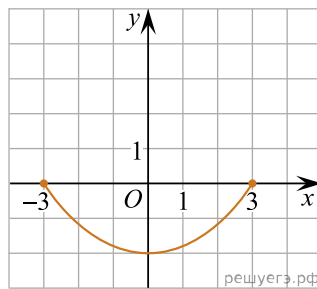
Графік функції



1.



2.



3.

Градусна міра вписаного кута ACB

- А графік функції двічі перетинає графік функції $y = 2^x$
- Б графік функції є фрагментом графіка функції $y = 1 - x$
- В графік функції є фрагментом графіка функції $y = 1 + x$
- Г функція є непарною
- Д функція зростає на проміжку $[0; 3]$

А
Б
В
Г
Д

- 1
○ ○ ○ ○ ○
- 2
○ ○ ○ ○ ○
- 3
○ ○ ○ ○ ○

17. Установіть відповідність між числовим виразом (1—3) та його значенням (А—Д).

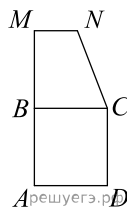
Початок речення	Значення числового виразу
1. $16^{\frac{1}{2}}$	А 4
2. $\left(\frac{1}{4}\right)^{-2}$	Б 8
3. $2^{3,5} \cdot 2^{1,5}$	В 16
	Г 32
	Д 64

А
Б
В
Г
Д

- 1
○ ○ ○ ○ ○
- 2
○ ○ ○ ○ ○
- 3
○ ○ ○ ○ ○

18.

Квадрат $ABCD$ й прямокутна трапеція $BMNC$ лежать в одній площині (див. рисунок). Площа кожної із цих фігур дорівнює 36 см^2 , $AM = 15 \text{ см}$. Установіть відповідність між відрізком (1—3) і його довжиною (А—Д).



Відрізок	Довжина відрізка
1. сторона квадрата $ABCD$	А 2 см
2. висота трапеції $BMNC$	Б 3 см
3. менша основа трапеції $BMNC$	В 4 см
	Г 6 см
	Д 9 см

А
Б
В
Г
Д

- 1
○ ○ ○ ○ ○
- 2
○ ○ ○ ○ ○
- 3
○ ○ ○ ○ ○

19. Вписані перші кілька членів геометричної прогресії: 17, 68, 272, ... Знайдіть її четвертий член.

Відповідь: , .

20. Редактор стрічки новин вирішує, у якій послідовності розмістити 6 різних новин: 2 політичні, 3 суспільні та 1 спортивну. Скільки всього є різних послідовностей розміщення цих 6 новин у стрічці за умови, що політичні новини мають передувати іншим, а спортивна новина має бути останньою? Уважайте, що кожна з цих 6 новин у стрічці не повторюватиметься.

Відповідь: , .

21. В прямокутній системі координат в просторі задані точки $A(1; 3; -8)$ і $B(6; -5; -10)$. Найдіть модуль вектора \vec{AB} . В ответ запишите квадрат найденного модуля.

Відповідь: , .

22. Задано неравенство

$$x^2 + 4x + 6a|x + 2| + 9a^2 \leq 0,$$

где x — переменная, a — параметр. Найдите наибольшее целое значение a , при котором неравенство имеет не более одного решения.

Відповідь: , .