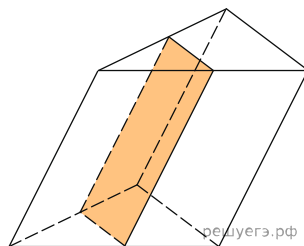
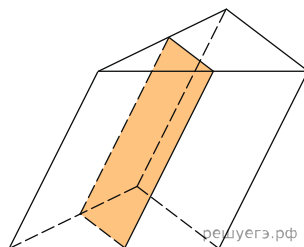


1. Через середню лінію основи трикутної призми проведено площину, паралельну бічному ребру. Знайдіть об'єм цієї призми, якщо об'єм відсіченої трикутної призми дорівнює 5.



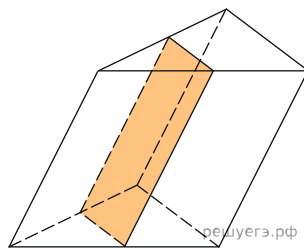
А) 25    Б) 20    В) 40    Г) 60    Д) 5

2. Через середню лінію основи трикутної призми проведено площину, паралельну бічному ребру. Знайдіть об'єм цієї призми, якщо об'єм відсіченої трикутної призми дорівнює 7.



А) 56    Б) 28    В) 14    Г) 7    Д) 21

3. Через середню лінію основи трикутної призми проведено площину, паралельну бічному ребру. Знайдіть об'єм цієї призми, якщо об'єм відсіченої трикутної призми дорівнює 7.



А) 21    Б) 28    В) 7    Г) 14    Д) 56